

**GEOGRAFIA**

**População**

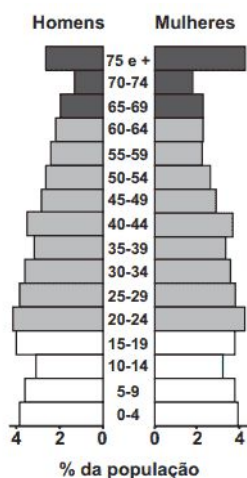
**01 - (ENEM)** O jovem espanhol Daniel se sente perdido. Seu diploma de desenhista industrial e seu alto conhecimento de inglês devem ajudá-lo a tomar um rumo. Mas a taxa de desemprego, que supera 52% entre os que têm menos de 25 anos, o desorienta. Ele está convencido de que seu futuro profissional não está na Espanha, como o de, pelo menos, 120 mil conterrâneos que emigraram nos últimos dois anos. O irmão dele, que é engenheiro-agrônomo, conseguiu emprego no Chile. Atualmente, Daniel participa de uma “oficina de procura de emprego” em países como Brasil, Alemanha e China. A oficina é oferecida por uma universidade espanhola.

GUILAYN, P. Na Espanha, universidade ensina a emigrar. O Globo, 17 fev. 2013 (adaptado).

A situação ilustra uma crise econômica que implica

- a.valorização do trabalho fabril.
- b.expansão dos recursos tecnológicos.
- c.exportação de mão de obra qualificada.
- d.diversificação dos mercados produtivos.
- e.intensificação dos intercâmbios estudantis.

**02 - (ENEM)**



CALDINI, V.; ISOLA, L. Atlas geográfico Saraiva. São Paulo: Saraiva, 2009 (adaptado).

O padrão da pirâmide etária ilustrada apresenta demanda de investimentos socioeconômicos para a

- a.redução da mortalidade infantil.
- b.promoção da saúde dos idosos.
- c.resolução do déficit habitacional.

d.garantia da segurança alimentar.

e.universalização da educação básica.

**03 - (ENEM)** Embora haja dados comuns que dão unidade ao fenômeno da urbanização na África, na Ásia e na América Latina, os impactos são distintos em cada continente e mesmo dentro de cada país, ainda que as modernizações se deem com o mesmo conjunto de inovações.

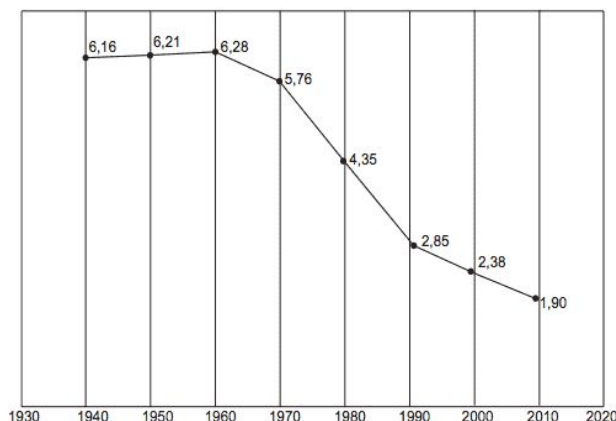
ELIAS, D. Fim do século e urbanização no Brasil. Revista Ciência Geográfica, ano IV, n. 11, set./dez. 1988.

O texto aponta para a complexidade da urbanização nos diferentes contextos socioespaciais. Comparando a organização socioeconômica das regiões citadas, a unidade desse fenômeno é perceptível no aspecto

- a.espacial, em função do sistema integrado que envolve as cidades locais e globais.
- b.cultural, em função da semelhança histórica e da condição de modernização econômica e política.
- c.demográfico, em função da localização das maiores aglomerações urbanas e continuidade do fluxo campo-cidade.
- d.territorial, em função da estrutura de organização e planejamento das cidades que atravessam as fronteiras nacionais.
- e.econômico, em função da revolução agrícola que transformou o campo e a cidade e contribuiu para fixação do homem ao lugar.

**04 - (ENEM)**

**Taxa de fecundidade total – Brasil – 1940-2010**



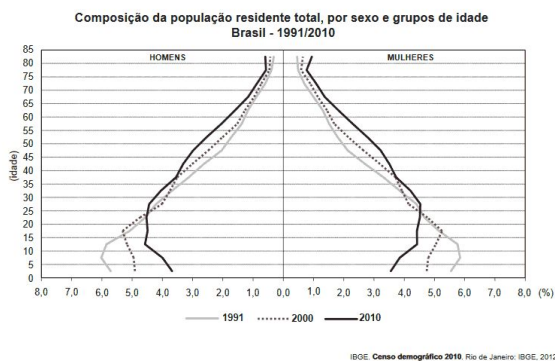
IBGE. Censo demográfico 2010: resultados gerais da amostra. Disponível em: [ftp://ftp.ibge.gov.br](http://ftp.ibge.gov.br). Acesso em: 12 mar. 2013.

## LISTA DE EXERCÍCIOS PARA O ENEM

O processo registrado no gráfico gerou a seguinte consequência demográfica:

- a. Decréscimo da população absoluta.
- b. Redução do crescimento vegetativo.
- c. Diminuição da proporção de adultos.
- d. Expansão de políticas de controle da natalidade.
- e. Aumento da renovação da população economicamente ativa.

### 05 - (ENEM)



A evolução na estrutura etária apresentada influenciou a Estado a formar ações para

- a. garantir a igualdade de gênero.
- b. priorizar a construção de escolas.
- c. reestruturar o sistema previdenciário.
- d. investir no controle da natalidade.
- e. fiscalizar a entrada de imigrantes.

**06 - (ENEM)** Foi lento o processo de transferência da população para as cidades, pois durante séculos o Brasil foi um país agrário. Foi necessário mais de um século (século XVIII a século XIX) para que a urbanização brasileira atingisse a maturidade; e mais um século para que assumisse as características atuais.

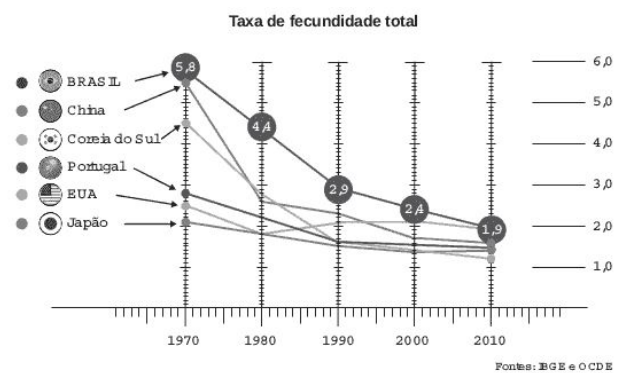
ENDLICH, A. M. Perspectivas sobre o urbano e o rural. In: SPOSITO, M. E. B.; WHITACKER, A. M. (Orgs.). Cidade e campo: relações e contradições entre o urbano e o rural. São Paulo: Expressão Popular, 2006 (adaptado).

A dinâmica populacional descrita indica a ocorrência do seguinte processo:

- a. Migração intrarregional.
- b. Migração pendular.

- c. Transumância.
- d. Êxodo rural.
- e. Nomadismo.

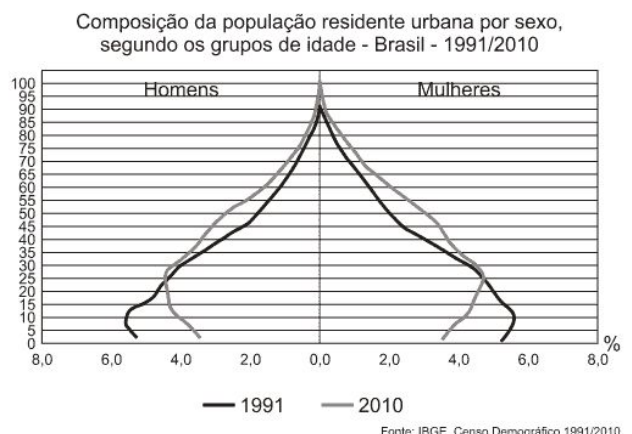
**07 - (ENEM)** O número de filhos por casal diminuiu rapidamente. Para a maioria dos economistas, isso representa um alerta para o futuro.



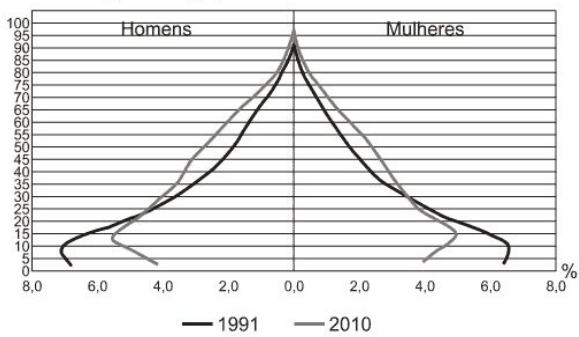
Uma consequência socioeconômica para os países que vivenciam o fenômeno demográfico ilustrado é a diminuição da

- a. oferta de mão de obra nacional
- b. média de expectativa de vida
- c. disponibilidade de serviços de saúde
- d. despesa de natureza previdenciária
- e. imigração de trabalhadores qualificados.

### 08 - (ENEM)

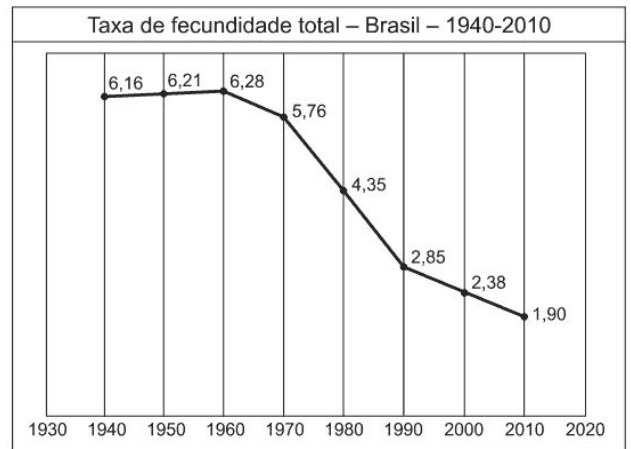


Composição da população residente rural por sexo, segundo os grupos de idade - Brasil - 1991/2010



Fonte: IBGE, Censo Demográfico 1991/2010  
BRASIL. IBGE. Censo demográfico 1991-2010. Rio de Janeiro, 2011.

10 - (ENEM)



IBGE. Censo demográfico 2010: resultados gerais da amostra. Disponível em: <ftp://ftp.ibge.gov.br>. Acesso em: 12 mar. 2013.

A interpretação e a correlação das figuras sobre a dinâmica demográfica brasileira demonstram um(a)

- a. menor proporção de fecundidade na área urbana.
- b. menor proporção de homens na área rural.
- c. aumento da proporção de fecundidade na área rural.
- d. queda da longevidade na área rural.
- e. queda do número de idosos na área urbana.

09 - (ENEM) A Estrada de Ferro Noroeste do Brasil, que começa a ser construída apenas em 1905, foi criada, ao contrário das outras grandes ferrovias paulistas, para ser uma ferrovia de penetração, buscando novas áreas para a agricultura e povoamento. Até 1890, o café era quem ditava o traçado das ferrovias, que eram vistas apenas como auxiliadoras da produção cafeeira.

CARVALHO, D. F. Café, ferrovias e crescimento populacional: o florescimento da região noroeste paulista. Disponível em: [www.historica.arquivoestado.sp.gov.br](http://www.historica.arquivoestado.sp.gov.br). Acesso em: 2 ago. 2012.

Essa nova orientação dada à expansão ferroviária, durante a Primeira República, tinha como objetivo a:

- a. articulação de polos produtores para exportação.
- b. criação de infraestrutura para atividade industrial.
- c. integração de pequenas propriedades policultoras.
- d. valorização de regiões de baixa densidade demográfica.
- e. promoção de fluxos migratórios do campo para a cidade.

O processo registrado no gráfico gerou a seguinte consequência demográfica:

- a. Decréscimo da população absoluta.
- b. Redução do crescimento vegetativo.
- c. Diminuição da proporção de adultos.
- d. Expansão de políticas de controle da natalidade.
- e. Aumento da renovação da população economicamente ativa.

11 - (ENEM) Os países industriais adotaram uma concepção diferente das relações familiares e do lugar da fecundidade na vida familiar e social. A preocupação de garantir uma

transmissão integral das vantagens econômicas e sociais adquiridas tem como resultado uma ação voluntária de limitação do número de nascimentos.

GEORGE, P Panorama do mundo atual. São Paulo: Difusão Européia do Livro, 1968 (adaptado).

Em meados do século XX, o fenômeno social descrito contribuiu para o processo europeu de

- a. estabilização da pirâmide etária.
- b. conclusão da transição demográfica.
- c. contenção da entrada de imigrantes.
- d. elevação do crescimento vegetativo.
- e. formação de espaços superpovoados.

**12 - (ENEM)** O professor Paulo Saldiva pedala 6 km em 22 minutos de casa para o trabalho, todos os dias. Nunca foi atingido por um carro. Mesmo assim, é vítima diária do trânsito de São Paulo: a cada minuto sobre a bicicleta, seus pulmões são envenenados com 3,3 microgramas de poluição particulada – poeira, fumaça, fuligem, partículas de metal em suspensão, sulfatos, nitratos, carbono, compostos orgânicos e outras substâncias nocivas.

ESCOBAR, H. Sem ar. O Estado de São Paulo, ago. 2008.

A população de uma metrópole brasileira que vive nas mesmas condições socioambientais das do professor citado no texto apresentará uma tendência de

- a.ampliação da taxa de fecundidade.
- b.diminuição da expectativa de vida.
- c.elevação do crescimento vegetativo.
- d.aumento na participação relativa de idosos.
- e.redução na proporção de jovens na sociedade.

**13 - (ENEM)**

**TEXTO I**

Em março de 2004, o Brasil reconheceu na Organização das Nações Unidas a existência, no país, de pelo menos 25 mil pessoas em condição análoga à escravidão — e esse é um índice considerado otimista. De 1995 a agosto de 2009, cerca de 35 mil pessoas foram libertadas em ações dos grupos móveis de fiscalização do Ministério do Trabalho e Emprego.

Mentiras mais contadas sobre trabalho escravo. Disponível em: [www.reporterbrasil.com.br](http://www.reporterbrasil.com.br). Acesso em: 22 ago. 2011 (adaptado).

**TEXTO II**

O Brasil subiu quatro posições entre 2009 e 2010 no ranking do Índice de Desenvolvimento Humano (IDH) divulgado pelo Programa das Nações Unidas para Desenvolvimento. Mas, se o IDH levasse em conta apenas a questão da escolaridade, a posição do Brasil no ranking mundial ficaria pior, passando de 73 para 93.

UCHINAKA, F.; CHAVES-SCARELLI, T. Brasil é o país que mais avança, apesar da variável “educação” puxar IDH para baixo. Disponível em: <http://noticias.uol.com.br>. Acesso em: 22 ago. 2011 (adaptado).

Estão sugeridas nos textos duas situações de exclusão social, cuja superação exige, respectivamente, medidas de

- a.redução de impostos e políticas de ações afirmativas.
- b.geração de empregos e aprimoramento do poder judiciário.
- c.fiscalização do Estado e incremento da educação nacional.
- d.nacionalização de empresas e aumento da distribuição de renda.
- e.sindicalização dos trabalhadores e contenção da migração interna.

**14 - (ENEM)** Em 1960, os 20% mais ricos da população mundial dispunham de um capital trinta vezes mais elevado do que o dos 20% mais pobres, o que já era escandaloso. Mas, ao invés de melhorar, a situação ainda se agravou. Hoje, o capital dos ricos em relação ao dos pobres é, não mais trinta, mas oitenta e duas vezes mais elevado.

RAMONET, I. Guerras do século XXI: novos temores e novas ameaças. Petrópolis: Vozes, 2003 (adaptado).

Que característica socioeconômica está expressa no texto?

- a.Expansão demográfica.
- b.Homogeneidade social.
- c.Concentração de renda.
- d.Desemprego conjuntural.
- e.Desenvolvimento econômico.

**15 - (ENEM)** Segundo o Programa das Nações Unidas para o Desenvolvimento (PNUD), 82,7% da renda mundial encontrava-se nas mãos dos 20% mais ricos, enquanto os 20% mais pobres detinham apenas 1,4% da renda; quatro anos depois, os 20% mais ricos haviam aumentado sua parcela para 85% da riqueza.

VIZENTINI, P. F. A nova ordem global: relações internacionais do século 20. Porto Alegre: EdUFRGS, 1999.

Que característica socioeconômica está evidenciada no texto?

- a.Homogeneidade social.
- b.Concentração de renda.
- c.Desemprego estrutural.
- d.Crescimento macroeconômico.
- e.Expansão populacional.

## LISTA DE EXERCÍCIOS PARA O ENEM



### GABARITO

01 – C

02 – B

03 – C

04 – B

05 – C

06 – D

07 – A

08 – A

09 – D

10 – B

11 - B

12 - B

13 - C

14 - C

15 - B